

H2 §1 Lijnen.

Opg 3.



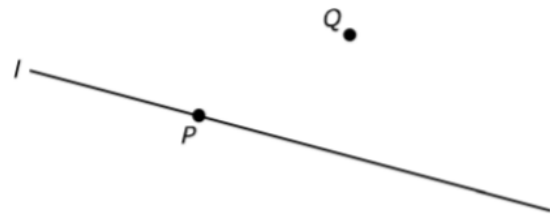
Opg 4.



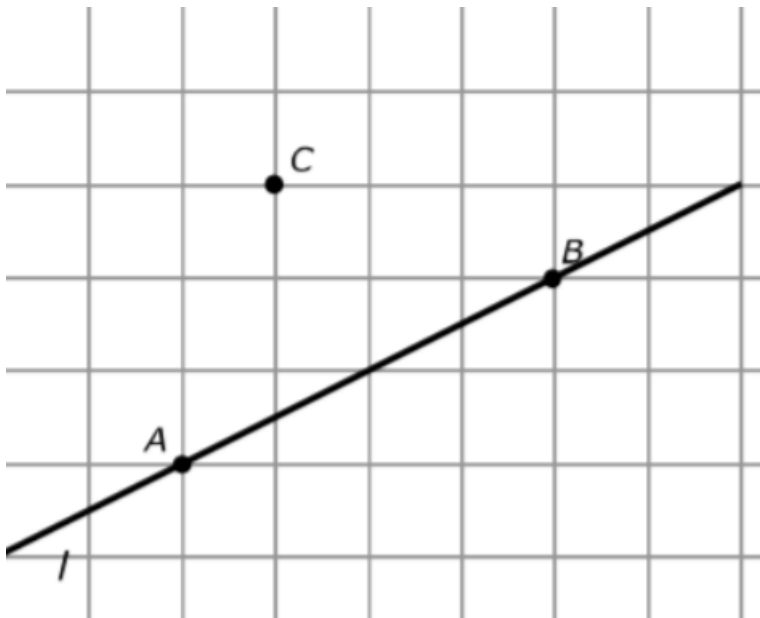
Opg 5.



Opg 6.

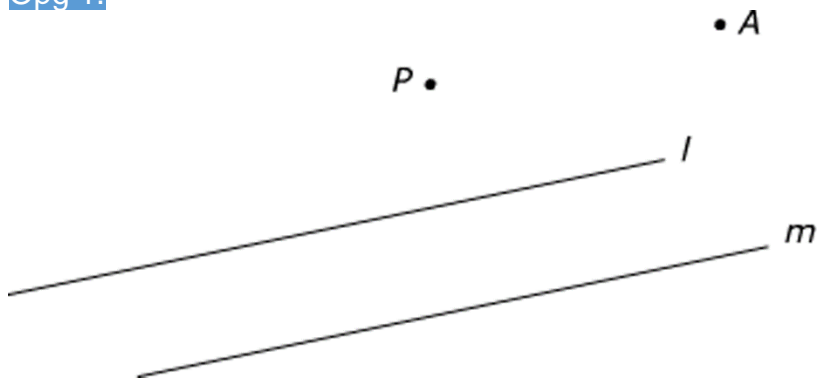


Opg 7.

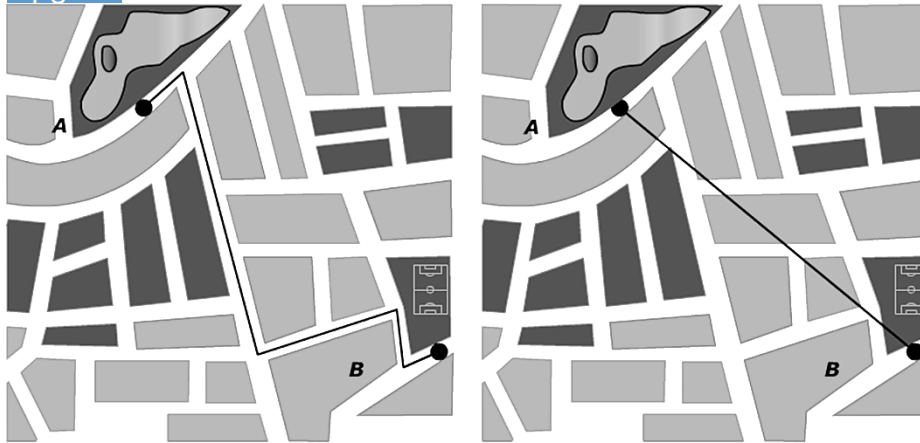


H2 §2 Afstanden.

Opg. 1.

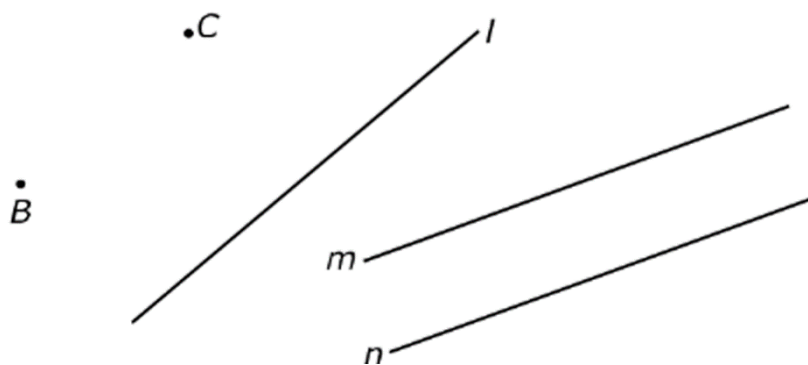


Opg. 2.

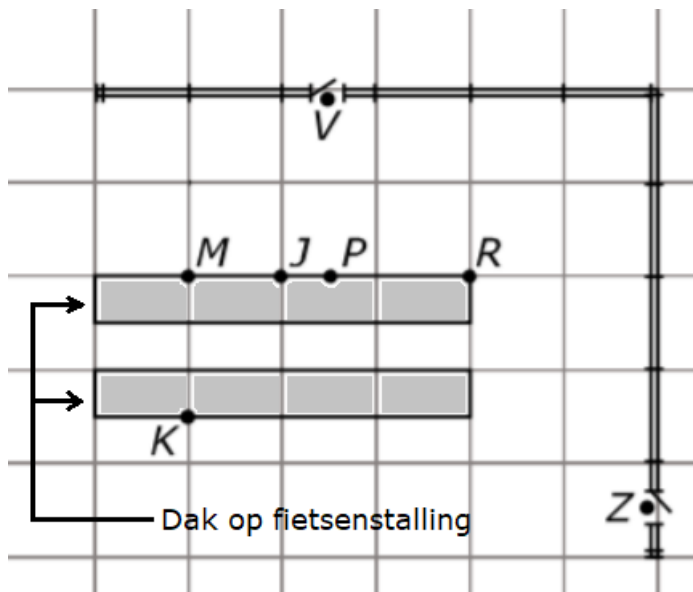


Opg. 4.

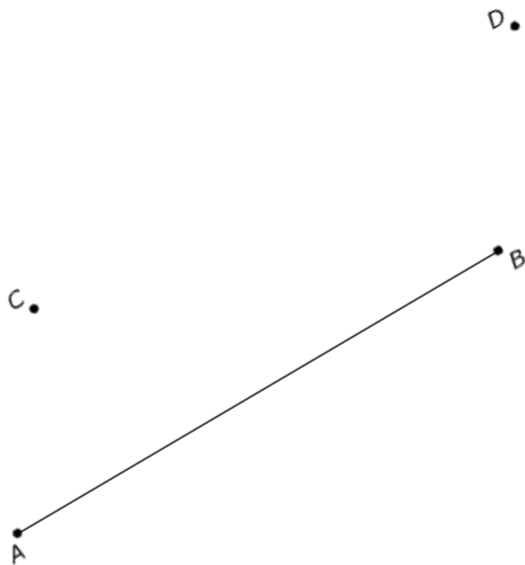
A.



Opg. 5 & opg. 6.



Opg. 7.



H2 §3 Vlakke figuren

Opd. 1. .

De uitknipfiguren vind je op de laatste bladzijde van hoofdstuk 2

**Knip de figuren uit.
Plak ze in de juiste kolom.**

vlakke figuren		ruimtefiguren
vlakke figuren die geen veelhoek zijn	driehoeken	veelhoeken
	vierhoeken	vijf- of meer dan vijfhoeken

Opd. 2.

De uitknipfiguren vind



Zet een kruisje bij de goede eigenschap.

- tenminste 1 paar evenwijdige zijden
- 2 paar evenwijdige zijden
- 4 rechte hoeken
- 4 gelijke (even lange) zijden

Zet een kruisje bij wat klopt

- vlakke figuur
- ruimtefiguur
- gebogen lijnstukken
- Rechte lijnstukken

Geef de naam van de figuur.

.....



Zet een kruisje bij de goede eigenschap.

- tenminste 1 paar evenwijdige zijden
- 2 paar evenwijdige zijden
- 4 rechte hoeken
- 4 gelijke (even lange) zijden

Zet een kruisje bij wat klopt

- vlakke figuur
- ruimtefiguur
- gebogen lijnstukken
- Rechte lijnstukken

Geef de naam van de figuur.

.....



Zet een kruisje bij de goede eigenschap.

- tenminste 1 paar evenwijdige zijden
- 2 paar evenwijdige zijden
- 4 rechte hoeken
- 4 gelijke (even lange) zijden

Zet een kruisje bij wat klopt

- vlakke figuur
- ruimtefiguur
- gebogen lijnstukken
- Rechte lijnstukken

Geef de naam van de figuur.

.....



Zet een kruisje bij de goede eigenschap.

- tenminste 1 paar evenwijdige zijden
- 2 paar evenwijdige zijden
- 4 rechte hoeken
- 4 gelijke (even lange) zijden

Zet een kruisje bij wat klopt

- vlakke figuur
- ruimtefiguur
- gebogen lijnstukken
- Rechte lijnstukken

Geef de naam van de figuur.

.....



Zet een kruisje bij de goede eigenschap.

- tenminste 1 paar evenwijdige zijden
- 2 paar evenwijdige zijden
- 4 rechte hoeken
- 4 gelijke (even lange) zijden

Zet een kruisje bij wat klopt

- vlakke figuur
- ruimtefiguur
- gebogen lijnstukken
- Rechte lijnstukken

Geef de naam van de figuur.

.....



Zet een kruisje bij de goede eigenschap.

- tenminste 1 paar evenwijdige zijden
- 2 paar evenwijdige zijden
- 4 rechte hoeken
- 4 gelijke (even lange) zijden

Zet een kruisje bij wat klopt

- vlakke figuur
- ruimtefiguur
- gebogen lijnstukken
- Rechte lijnstukken


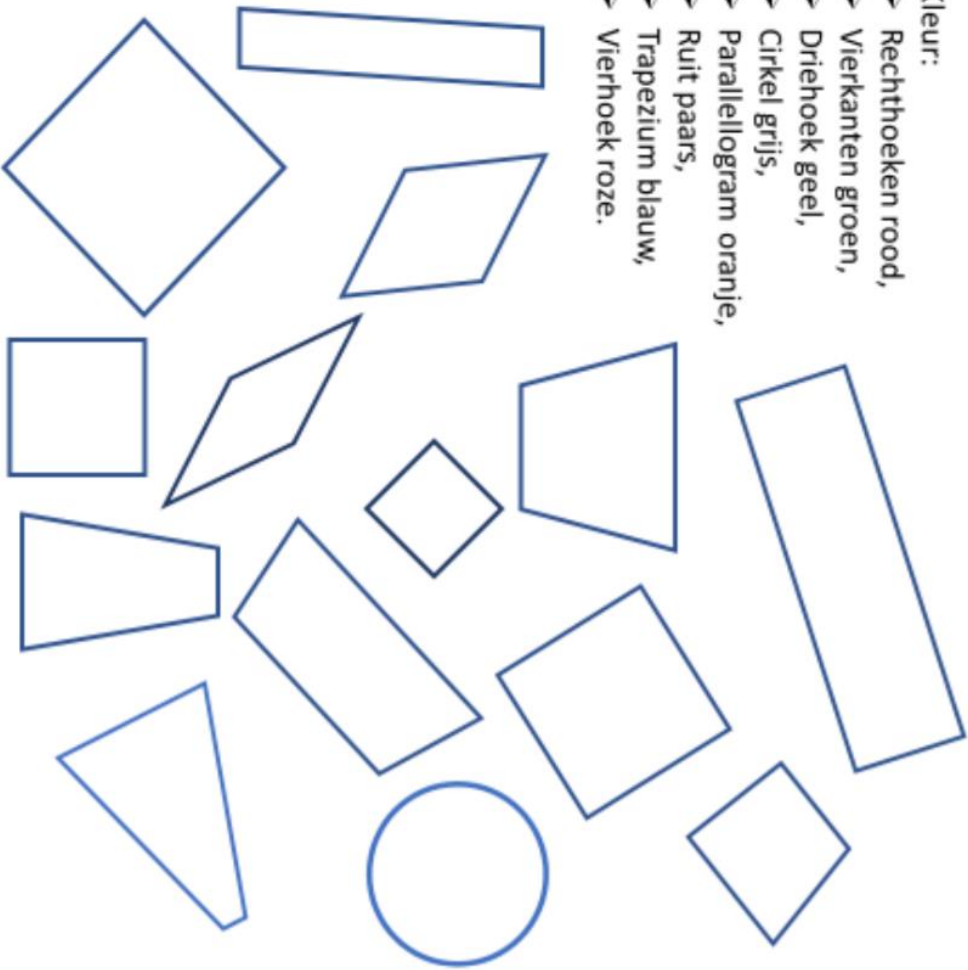
Geef de naam van de figuur.

.....

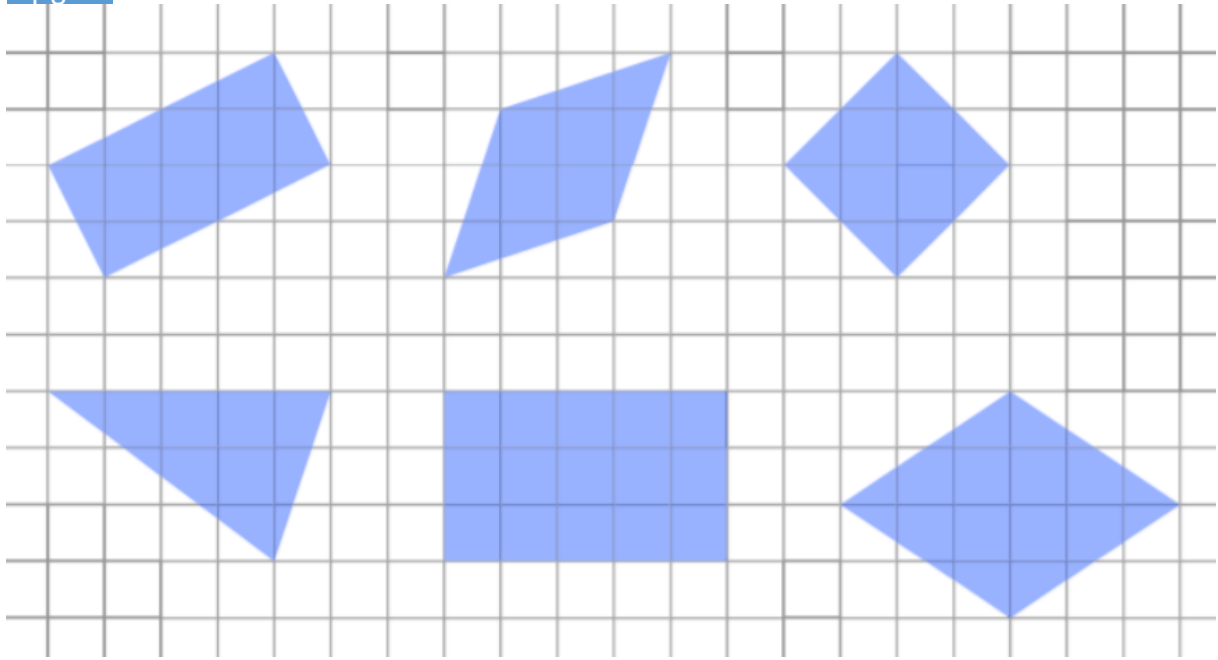


Teken zelf de genoemde figuren, maak ze niet te groot


- Kleur:
- Rechthoeken rood,
 - Vierkanten groen,
 - Driehoek geel,
 - Cirkel grijs,
 - Parallelogram oranje,
 - Ruit paars,
 - Trapezium blauw,
 - Vierhoek roze.



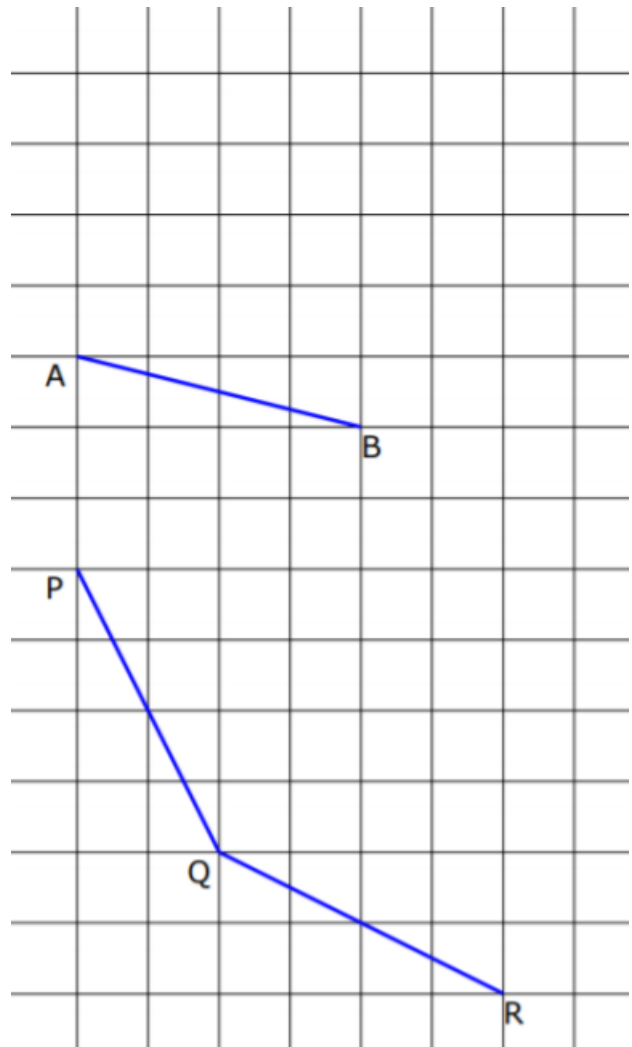
Opg. 5.



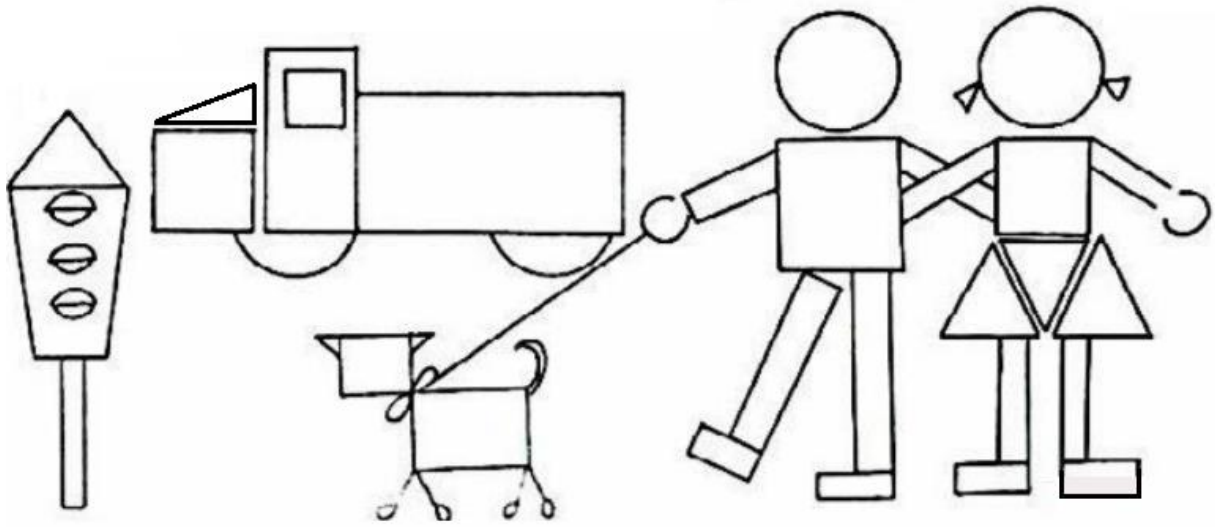
Opg. 6.



Opg. 7.

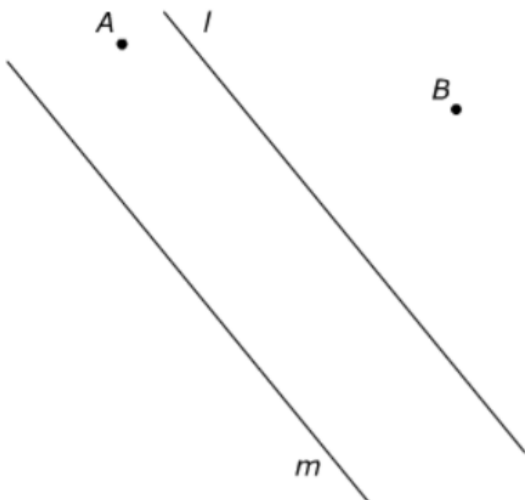


Opg. 9.

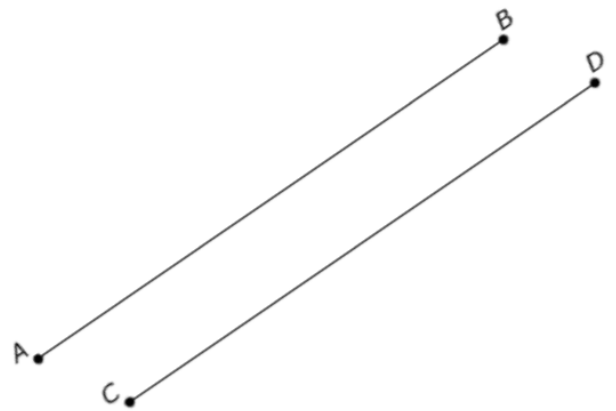


§ 5 Gemengde opgaven.

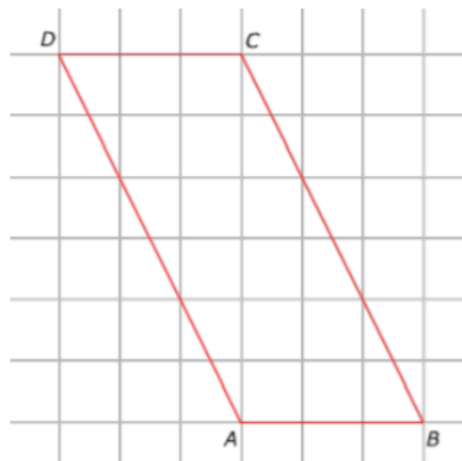
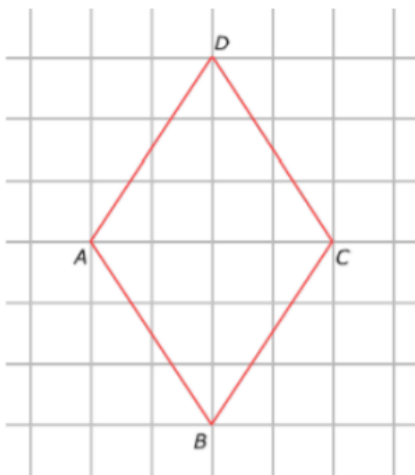
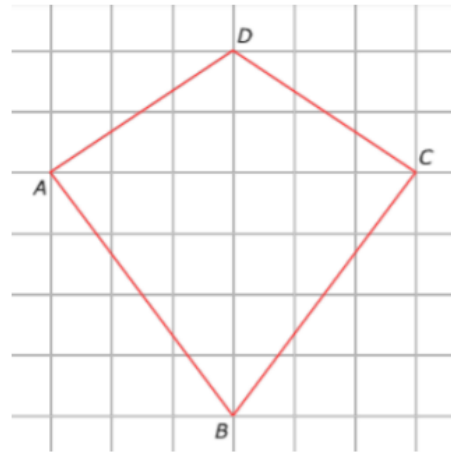
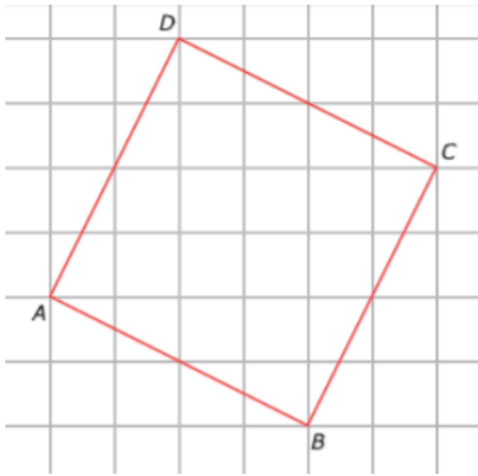
Opg. 5.



Opg. 6.



Opg. 7, opg 8, opg. 9 & opg. 10.



Deze figuren horen bij H2 §3 opg. 1

